

## Олимпиада по истории, 7–8 класс (100 б.)

**Задание 1.** Верны ли следующие утверждения? («Да» – «Нет»). Ответы внесите в таблицу.

1. Боярство на Руси образовывалось двумя путями: с одной стороны, это родовая и племенная знать, перешедшая на определенном этапе в общегосударственную элиту, с другой – верхушка княжеской дружины, «смысленные мужи» княжеского окружения.
2. Античный полис Херсонес Таврический на южном побережье современного Крыма в V в. до н. э. основали греки из Гераклеи Понтийской.
3. Православная церковь на Руси являлась митрополией Ватиканского патриархата.
4. Первая карта территории Западной Сибири была составлена около 1700 года Витусом Беренгом.

**Ответ:**

1	2	3	4
Да	Да	Нет	Нет

**По 2 балла за каждый правильный ответ. Итого: 8 баллов**

**Задание 2.** В таблице перед вами перечень исторических событий (процессов). Выполните задания.

### Перечень событий (процессов)

А) Разгром половцами Ярославичей на реке Альте (1068 г.)	Б) Междоусобная война в Московском княжестве (1425–1453 гг.)
В) Опричнина (1565–1572 гг.)	Г) Взятие Киева войсками Андрея Боголюбского (1169 г.)

1) Установите соответствие между данными событиями (процессами) и изображениями: к каждому событию (процессу) подберите по одному изображению. Ответ занесите в таблицу.

<p>1)</p> 	<p>2)</p> 
<p>3)</p> 	<p>4)</p> 

**Ответ:**

А	Б	В	Г
3	4	1	2

**По 3 балла за каждый правильный ответ. Итого: 12 баллов**

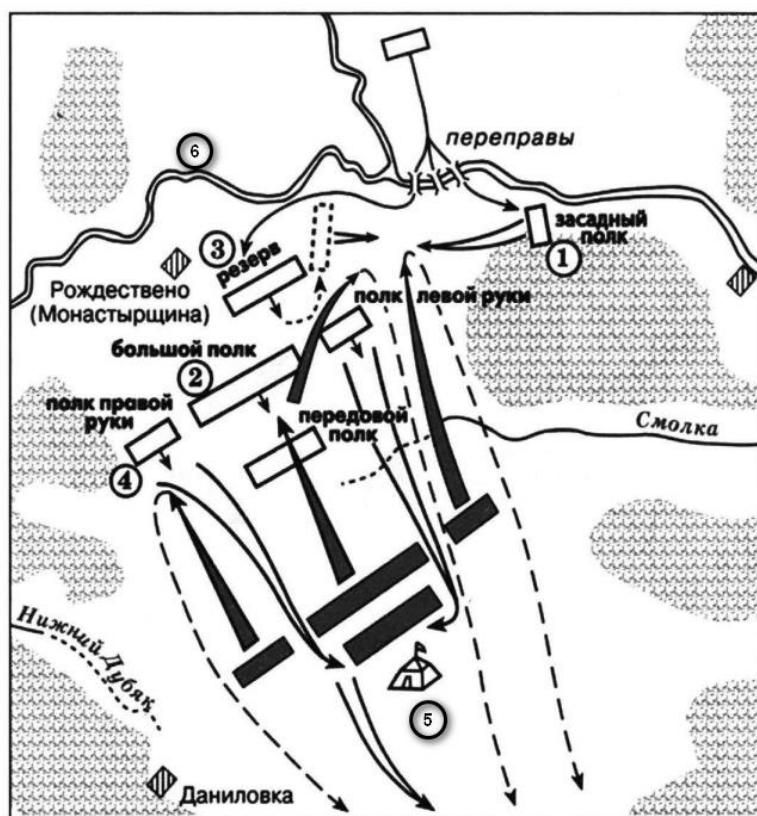
2) Прочтите отрывок из исторического источника и определите, о каком из данных событий (процессов) он повествует. В ответе запишите букву, которой обозначено это событие (процесс).

«<...>Целые два дня грабили город, Подолье и Гору, и монастыри ..., и Десятинную Богородицу: не было помилования ни кому ни откуда; церкви горели, христиан убивали, других вязали, жен вели в плен, разлучая силою от мужей, младенцы рыдали, смотря на матерей своих; взяли именья множество, из церквей побрали иконы, книги, ризы и колокола <...>; зажжен был монастырь печерский погаными, но бог молитвами св. богородицы соблюл его от такой беды; и были в ... у всех людей стон и скорбь неутешная и слезы непрестанные. Все это случилось грех ради наших. Мстислав ... посадил дядю своего Глеба на столе ..., а сам пошел в Суздаль к отцу своему ..., с великою честью и славою <...>».

**Ответ: Г (4 балла)**

**Итого за все задание: 16 баллов**

**Задание 3.** Рассмотрите схему и выполните задания.



1. Укажите цифру, обозначающую подразделение русского войска, позднее других вступившее в сражение.

**Ответ: 1 (2 балла)**

2. Укажите командующих, возглавлявших подразделение русского войска, позднее других вступившего в сражение.

**Ответ: Владимир Серпуховский (2 балла), Дмитрий Боброк-Волынский (2 балла).**

3. Как звали полководца, командовавшего войском, противостоявшим русской рати в сражении, лагерь которого обозначен на карте цифрой «5»?






**Ответ: Мамай (2 балла).**

4. Укажите название реки, обозначенного на схеме цифрой «6», к которой стал отходить левый фланг русских войск под натиском врага.

**Ответ: Непрядва (2 балла).**

**Итого: 10 баллов за все задание.**

**Задание 4.** Установите соответствие между описаниями коренных народов Сибири и их изображениями. Ответы внесите в таблицу.

№	Описание		Изображение
1	В таёжной зоне Западной Сибири, по берегам Оби, обитают ханты, манси, селькупы. Эти народы занимаются в основном рыбной ловлей и охотой	А	
2	В восточносибирской тайге кочуют со стадами оленей эвенки, эвены и долганы. Их основное занятие охота и оленеводство	Б	
3	За Полярным кругом в Западной Сибири издавна живут ненцы, основным занятием которых является охота и оленеводство	В	
4	На юге Сибири живет несколько родственных народов, горящих на языках тюркской группы, – татары, алтайцы, хакасы. Они всегда славились как хорошие скотоводы, ремесленники и земледельцы. Это их предки создали первые в Сибири государства – Тюркский каганат и Сибирское ханство.	Г	
5	На самом севере Восточной Сибири, на правом берегу Енисея, живут нганасаны – охотники и оленеводы	Д	



Ответ:

Описание	1	2	3	4	5
Изображение	В	Д	А	Б	Г

По 2 баллу за каждую правильно заполненную ячейку. Итого: 10 баллов

Задание 5. Выберите памятники, которые связаны с событиями Великой Отечественной войны 1941–1945 гг. Запишите цифры, которыми они обозначены.

1.		
2.		
3.		
4.		
5.		

6.	
7.	

**Ответ: 1, 3, 5 (По 3 балла за каждую верно указанную цифру. Итого: 9 баллов)**

**Задание 6.** Отгадайте русские народные загадки о предметах быта.

1. Мочили, колотили, рвали, крутили и на стол клали.

**Ответ: скатерть (3 балла).**

2. Стоит кошка о четыре ножки.

**Ответ: скамья, лавка (3 балла).**

3. Висит, болтается, всяк за него хватается.

**Ответ: полотенце (3 балла).**

4. Кривой конь лезет в огонь.

**Ответ: кочерга (3 балла).**

**Итого: 12 баллов за все задание.**

**Задание 7.** Прочитайте фрагмент договорной грамоты XIII века и выполните задания.

«Благословение от владыки, поклон от посадника Павше, и от всех старейших, и от всего города, к господину князю Ярославу. На семь, княже, целуй крест к всему городу; на семь то целовали дед и отец твой Ярослав. Что волостей всех городских, тех волостей, княже, не держати ты со своими мужи, но держати их мужам городским; а дар, княже, тебе имати от тех волостей. А без посадника ты, княже, суда не судити, ни волостей раздавати: а кому волости роздал Александр брат твой, тех волостей тебе без вины не лишати. А в Бежичях тебе, княже, ни твоей княгыни, ни твоим бояром, ни твоим слугам сел не держати, ни купити, ни в дар приимати, и по всей волости также».

7.1. Назовите князя, с которым заключался договор. Укажите его имя и отчество.

**Ответ: Ярослав Ярославич (2 балла).**

7.2. Укажите землю (княжество), с которой князь заключил этот договор.

**Ответ: Великий Новгород (3 балла).**

7.3. Укажите имена и отчества (и прозвища, если таковые есть) упомянутых в тексте «деда», «отца» и «брата Александра» упомянутого князя.

**Ответ: Дед – Всеволод Юрьевич Большое Гнездо (2 балла);**

**Отец – Ярослав Всеволодович (2 балла);**

**Брат Александр – Александр Ярославич Невский (2 балла).**

7.4. Укажите ограничения власти князя, описанные во фрагменте договорной грамоты XIII века. Приведите три ограничения.

**Ответ:** Участником могут быть названы следующие ограничения.

1. Князь не мог лишать новгородцев вотчин.
2. Князь не мог без посадника вершить суд.
3. Князь не мог без посадника даровать новые вотчины.
4. Князь не мог владеть (а также покупать, принимать в дар) землями «в Бежичях» (а также землями «по всей волости Новгородской»).

**По 2 баллу за каждое верное ограничение. Всего 6 баллов.**

**Максимум за задание – 17 баллов.**

**Задание 8.** Ознакомьтесь с постерами к фильмам, в которых содержится информация о жизни и творчестве деятелей культуры XIX – первой половины XX вв. Под каждым постером запишите фамилию деятеля культуры, которому он посвящен.

		
1 – Н.В. Гоголь	2 – А.С. Пушкин	3 – С.А. Есенин
		
4 – М.Ю. Лермонтов	5 – В.В. Маяковский	6 – Л.Н. Толстой

**По 3 балла за каждую верно названную фамилию деятеля культуры. Итого: 18 баллов.**