



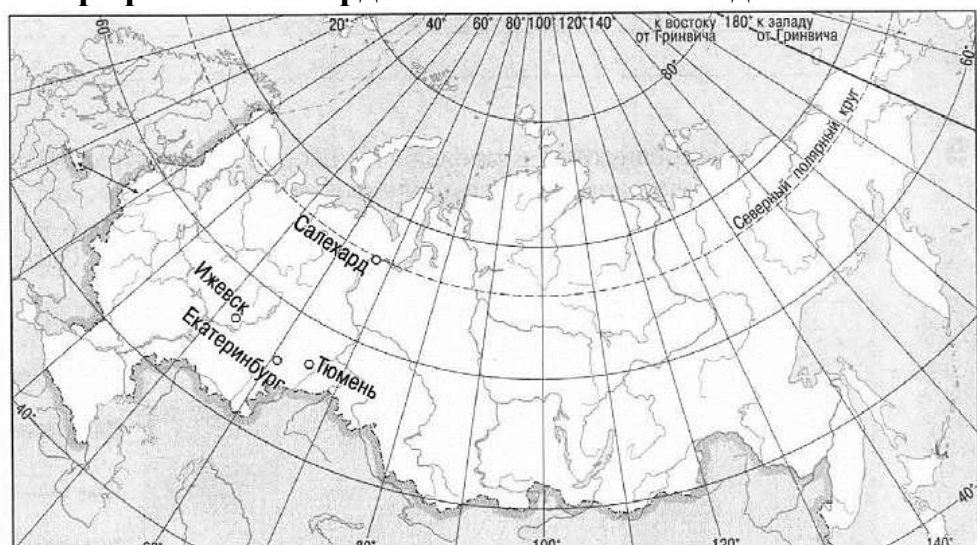
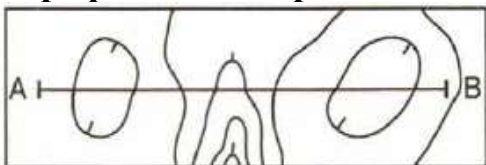




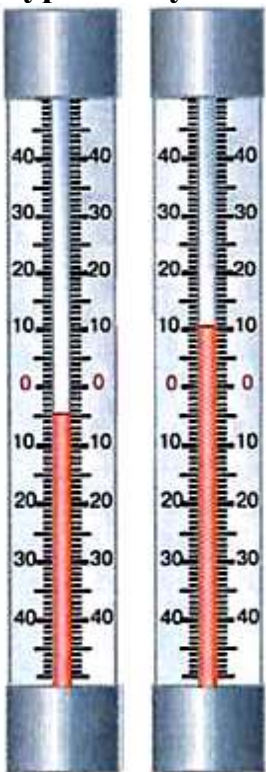


Предмет ГЕОГРАФИЯ	Класс 7	Дата	Время начала	Время окончания
-----------------------------	-------------------	------	--------------	-----------------


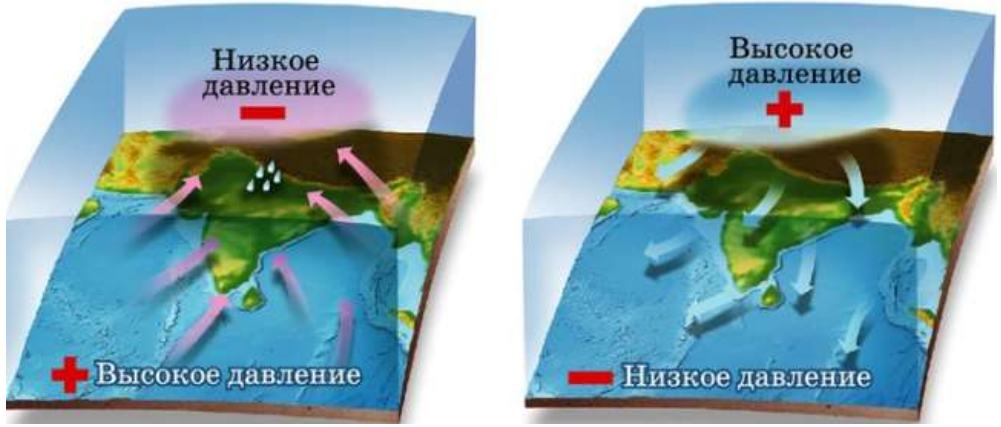
ЗАДАНИЯ ВТОРОЙ (ТЕСТОВОЙ) ЧАСТИ

№ n/n	Вопросы	Ответы
1.	<p>Назовите исследователя, который первым в истории человечества измерил радиус земного шара, путем вычислений и без измерительных приборов.</p> <div style="display: flex; justify-content: space-around; align-items: flex-start;"> <div style="text-align: center;">  А. Эратосфен Киренский </div> <div style="text-align: center;">  Б. Геродот </div> </div> <div style="display: flex; justify-content: space-around; align-items: flex-start;"> <div style="text-align: center;">  В. Аристотель </div> <div style="text-align: center;">  Г. Пифагор </div> </div>	<p>А (1 балл)</p>
2.	<p>Определите, какой из городов, представленных на карте, имеет географические координаты 57° с. ш. 65° в. д.</p> 	<p>Г (1 балл)</p>

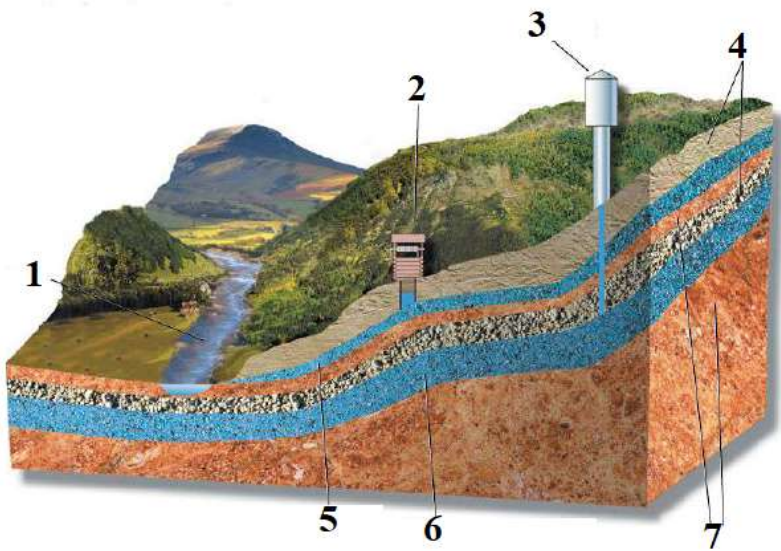

Предмет	Класс	Дата	Время начала	Время окончания
ГЕОГРАФИЯ	7			

№ п/п	Вопросы	Ответы
3.	<p>Установите профиль, который соответствует фрагменту топографической карты.</p>  <p> А.  Б.  В.  Г.  </p>	<p>В (1 балл)</p>
4.	<p>Выберите вариант, в котором верно определена амплитуда температуры воздуха.</p>  <p> А. 15° С Б. 20° С В. 10° С Г. 5° С </p>	<p>А (1 балл)</p>
5.	<p>Назовите горы, находящиеся в пределах Альпийско-Гималайского сейсмического пояса.</p> <p> А. Кордильеры Б. Кавказ В. Анды Г. Скандинавские </p>	<p>Б (1 балл)</p>

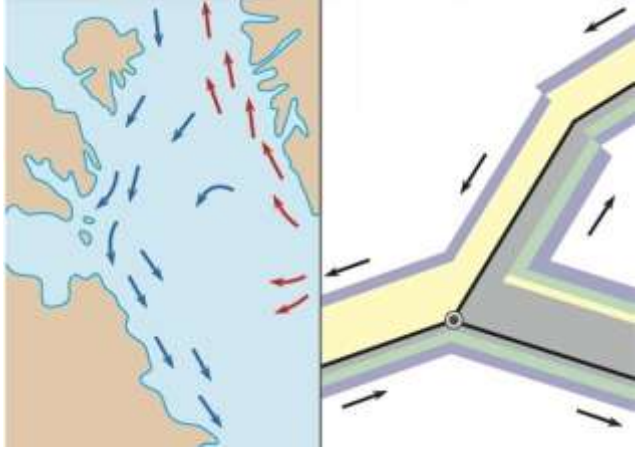

Предмет	Класс	Дата	Время начала	Время окончания
ГЕОГРАФИЯ	7			

№ п/п	Вопросы	Ответы
6.	<p>Определите, профиль какой почвы изображен на рисунке.</p> <p>А. подзолистая Б. желтозем В. чернозем Г. бурая лесная</p> 	В (1 балл)
7.	<p>Назовите ветер, изображенный на рисунке:</p>  <p>А. пассат Б. бриз В. муссон Г. фён</p>	В (1 балл)

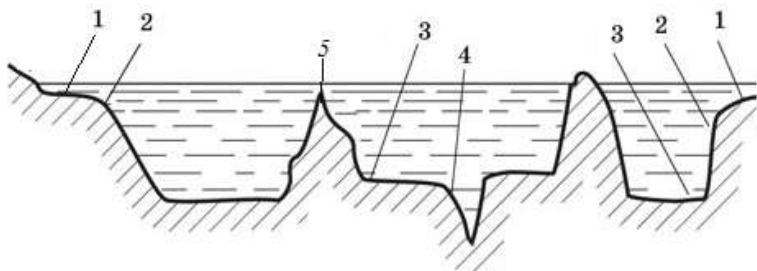
Предмет	Класс	Дата	Время начала	Время окончания
ГЕОГРАФИЯ	7			

№ п/п	Вопросы	Ответы
8.	<p>Определите по рисунку, под каким номером изображены грунтовые воды.</p> 	<p>5 (1 балл)</p>
9.	<p>Назовите, кто из путешественников совершил плавание по маршруту в разные годы, представленному на рисунке.</p> <p>А. Фаддей Фаддеевич Беллинсгаузен Б. Христофор Колумб В. Васко да Гама Г. Руаль Амундсен</p> 	<p>Б (1 балл)</p>
10.	<p>Назовите теплое течение.</p> <p>А. Канарское Б. Перуанское В. Северо-Атлантическое Г. Сомалийское</p>	<p>В (1 балл)</p>



Предмет	Класс	Дата	Время начала	Время окончания
ГЕОГРАФИЯ	7			

№ п/п	Вопросы	Ответы
11.	<p>Назовите самую древнюю геологическую эру:</p> <p>А. Кайнозойская Б. Архейская В. Палеозойская Г. Мезозойская</p>	<p>Б (1 балл)</p>
12.	<p>Определите, какой из перечисленных картографических способов изображен на рисунке:</p>  <p>А. качественный фон Б. линейных знаков В. знаков движения Г. количественный фон</p>	<p>В (1 балл)</p>
13.	<p>Определите по рисунку природную зону:</p>  <p>А. жестколиственные леса и кустарники Б. саванна и редколесье В. переменные влажные леса Г. прерии</p>	<p>Б (1 балл)</p>

Предмет	Класс	Дата	Время начала	Время окончания
ГЕОГРАФИЯ	7			

№ n/n	Вопросы	Ответы
14.	<p>Определите остров Атлантического океана по описанию: «Поверхность – волнистая равнина с останцовыми кряжами высотой до 814 м. Природа острова мало отличается от соседней континентальной, эндемики немногочисленны. Юго-запад покрыт хвойными лесами: чёрная и сизая ель, бальзамическая пихта, но встречаются берёзы».</p> <p>А. Гренландия Б. Исландия В. Гаити Г. Ньюфаундленд</p>	Г (1 балл)
15.	<p>Определите масштаб плана, если улица длиной в 4 км была изображена на плане отрезком длиной 8 см.</p> <p>А. 1:50000 Б. 1:500 В. 1:500000 Г. 1:20000</p>	А (1 балл)
16.	<p>Определите по рисунку, под каким номером изображен материковый склон.</p> 	2 (1 балл)
17.	<p>Назовите материк, о котором написал Николай Гумилев следующие стихотворение: «...Я пробрался в глубь неизвестных стран, Восемьдесят дней шёл мой караван; Цепи грозных гор, лес, а иногда Странные вдали чьи-то города, И не раз из них в тишине ночной В лагерь долетал непонятный вой. Мы рубили лес, мы копали рвы, Вечерами к нам подходили львы...».</p> <p>А. Австралия Б. Южная Америка В. Африка Г. Северная Америка</p>	В (1 балл)

Предмет	Класс	Дата	Время начала	Время окончания
ГЕОГРАФИЯ	7			

№ n/n	Вопросы	Ответы
18.	<p>Определите по описанию и рисунку о каком водопаде идет речь: «Это не самый высокий водопад мира. Его высота «всего» 120 м. Но он, несомненно, один из самых красивых водопадов планеты. Мощный, шириной почти 2 км, он низвергается в узкое ущелье и представляет собой сплошную, изогнутую в виде подковы стену падающей воды. При падении этот водный поток образует целые облака водяных капель, которые окутывают ущелье. При ясной солнечной погоде над водопадом постоянно висит яркая радуга.</p>  <p>А. Виктория Б. Анхель В. Ниагарский Г. Игуасу</p>	<p>А (1 балл)</p>
19.	<p>Определите природное явление, изображенное на рисунке:</p> 	<p>Иней (1 балл)</p>

Предмет	Класс	Дата	Время начала	Время окончания
ГЕОГРАФИЯ	7			

№ п/п	Вопросы	Ответы
20.	<p>Назовите, древний народ, проживающий в Южной Африке, который был вытеснен в пустынные районы племенами банту.</p> <div style="display: flex; justify-content: space-around;"> <div style="text-align: center;">  <p>А. берберы</p> </div> <div style="text-align: center;">  <p>Б. бушмены</p> </div> </div> <div style="display: flex; justify-content: space-around;"> <div style="text-align: center;">  <p>В. туареги</p> </div> <div style="text-align: center;">  <p>Г. пигмеи</p> </div> </div>	Б (1 балл)

Максимальное количество баллов – 20