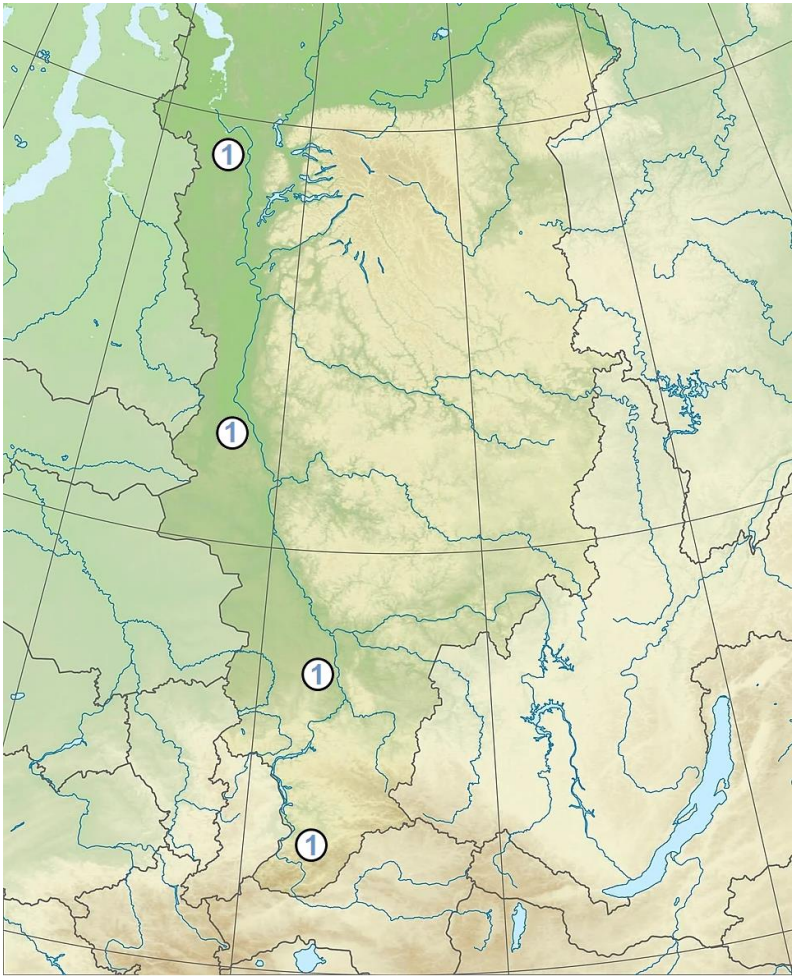


| | | | | |
|------------------|--------------|------|--------------|-----------------|
| Предмет | Класс | Дата | Время начала | Время окончания |
| ГЕОГРАФИЯ | 10-11 | | | |

ЗАДАНИЯ ВТОРОЙ (ТЕСТОВОЙ) ЧАСТИ

| № п/п | Вопрос | Ответ |
|-------|---|---------------------------------------|
| 1 | <p>В какой стране была выпущена банкнота, изображённая на рисунке?</p>  <p>А. Кения. В. ЮАР. Б. Индия. Г. Венесуэла.</p> | <p>Б (1 балл)</p> |
| 2 | <p>Какой архипелаг сформировался в результате процесса, изображённого на иллюстрации?</p>  <p>А. Гавайские острова. В. Курильские острова. Б. Британские острова. Г. Новосибирские острова.</p> | <p>В (1 балл)</p> |
| 3 | <p>Для иллюстрированного словаря географических терминов необходимо подобрать иллюстрацию к статье «Карстовые формы рельефа». Какой рисунок вы бы предложили для этого использовать?</p>  | <p>Г (1 балл)</p> |
| 4 | <p>Этот остров, многократно описанный в художественной и географической литературе, фигурой, по словам одного русского писателя, напоминает стерлядь. Протянулся он на 910 километров, загораживая собой от океана берег материка и устье одной из крупнейших рек нашей</p> | <p>о. Сахалин (1 балл)</p> |







| | | | | |
|------------------|--------------|------|--------------|-----------------|
| Предмет | Класс | Дата | Время начала | Время окончания |
| ГЕОГРАФИЯ | 10-11 | | | |

| № n/n | Вопрос | Ответ |
|-------|--|--|
| | <p>родины. На карте его поверхность пестрит условными знаками горных хребтов, речных долин, полезных ископаемых, городов и посёлков, носящих славные имена русских моряков-исследователей.</p> <p>Был на карте ещё один важный условный знак, в течение многих лет лежащий поперёк острова, но теперь вы его не найдёте. Он исчез навсегда.</p> <p>Какой это остров?</p> | |
| 5 | <p>Вообразите, что вы плывёте по реке, обозначенной на рисунке цифрой 1, спускаясь от истоков к устью.</p>  <p>Расставьте иллюстрации в том порядке, в котором вы встретите на своём пути изображённые на них географические объекты и ландшафты.</p> | <p>БАГВ (1 балл)</p> |

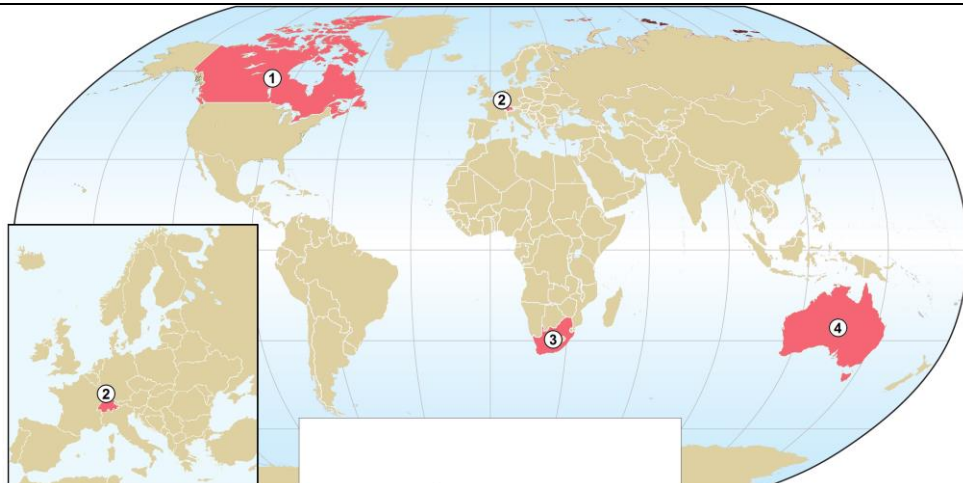
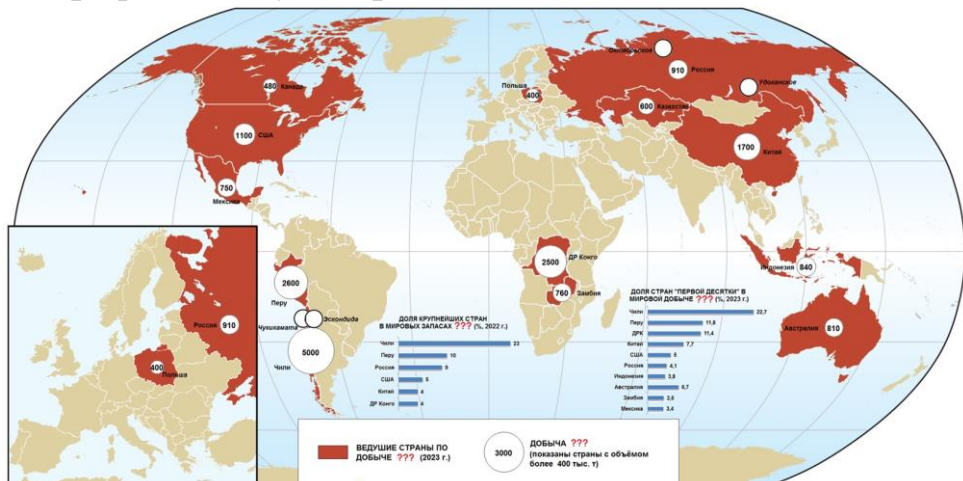
| | | | | |
|------------------|--------------|------|--------------|-----------------|
| Предмет | Класс | Дата | Время начала | Время окончания |
| ГЕОГРАФИЯ | 10-11 | | | |

| № n/n | Вопрос | Ответ | | | | | | | | | | | | | | | | | |
|---------|---|--|----------|----------------------------|------------------------|------------------------|---------|------------------------|--------|----------|----------------------------|-----|------|-------|-------|-------------------|------------------------|---------|--|
| 8 | <p>Установите соответствие между фрагментами карто- схем и иллюстрациями, чтобы образовались осмыслен- ные пары.</p> <div><div><div>①</div></div><div><div>②</div></div><div><div>③</div></div><div><div>④</div></div><div><div>А</div></div><div><div>Б</div></div><div><div>В</div></div><div><div>Г</div></div></div> | <p>1-Б 2-В 3-Г 4-А (по 0,25 бал- ла, всего 1 балл)</p> | | | | | | | | | | | | | | | | | |
| 9 | <p>Таблица показывает, как менялся с середины XX века состав стран, лидирующих в мире по объёмам производ- ства продукции одной из отраслей обрабатывающей промышленности. В таблице также приведены названия современных крупных центров данной отрасли. Опреде- лите отрасль промышленности, о которой идёт речь.</p> <table><tr><th rowspan="2">1950 г.</th><th rowspan="2">1970 г.</th><th rowspan="2">2010 г.</th><th rowspan="2">2020 г.</th><th colspan="3">Крупные центры отрасли</th></tr><tr><th>в мире</th><th>в России</th><th>в Новосибирской области</th></tr><tr><td>США</td><td>СССР</td><td>Китай</td><td>Китай</td><td>Стамбул, Пекин</td><td>Новороссийск, Топки</td><td>Искитим</td></tr></table> | 1950 г. | 1970 г. | 2010 г. | 2020 г. | Крупные центры отрасли | | | в мире | в России | в Новосибирской области | США | СССР | Китай | Китай | Стамбул, Пекин | Новороссийск, Топки | Искитим | <p>Цементная / промышлен- ность стро- ительных материалов (1 балл)</p> |
| 1950 г. | 1970 г. | | | | | 2010 г. | 2020 г. | Крупные центры отрасли | | | | | | | | | | | |
| | | в мире | в России | в Новосибирской области | | | | | | | | | | | | | | | |
| США | СССР | Китай | Китай | Стамбул, Пекин | Новороссийск, Топки | Искитим | | | | | | | | | | | | | |
| 10 | <p>Укажите отсутствующее звено в технологической це- почке производства алюминия.</p> <div><div><div>БОКСИТ</div></div><div><div>?</div></div><div><div>АЛЮМИНИЙ</div></div><div><div>АЛЮМИНИЕВЫЙ ПРОКАТ</div></div></div> | <p>Глинозём (1 балл)</p> | | | | | | | | | | | | | | | | | |
| 11 | <p>Какой общий вид промышленной продукции выпуска- ют заводы в Братске, Красноярске, Саяногорске, Шеле- хове, Новокузнецке?</p> <div><div>А. Самолёты.</div><div>В. Бумага.</div><div>Б. Автомобили.</div><div>Г. Алюминиевый прокат.</div></div> | <p>Г (1 балл)</p> | | | | | | | | | | | | | | | | | |

| | | | | |
|------------------|--------------|------|--------------|-----------------|
| Предмет | Класс | Дата | Время начала | Время окончания |
| ГЕОГРАФИЯ | 10-11 | | | |

| № n/n | Вопрос | Ответ | | | | | | | | | | | | | | | | | | | | | | | | | | | | |
|-------------------|---|--|-----------------|---------------------------|----------------|-----------|------|------|------|-------------------|------|------|-------|------|------|-----|-------|------|------|-----|-------|--------|------|-----|-------|-----|-------|-----|--------|----------------------------|
| 12 | <p>Установите соответствие между центрами машиностроения России и выпускаемой в них продукцией.</p> <p>Центры:</p> <p>1. Северодвинск. 3. Комсомольск-на-Амуре. 2. Новочеркасск. 4. Нижний Новгород.</p> <div><div><div>А</div></div><div><div>Б</div></div><div><div>В</div></div><div><div>Г</div></div></div> | <p>1-Б 2-А 3-В 4-Г (по 0,25 балла, всего 1 балл)</p> | | | | | | | | | | | | | | | | | | | | | | | | | | | | |
| 13 | <p>Какое государство из предложенного списка является теократической монархией?</p> <p>А. Великобритания. Г. ОАЭ. Б. Япония. Д. Люксембург. В. Саудовская Аравия.</p> | <p>В (1 балл)</p> | | | | | | | | | | | | | | | | | | | | | | | | | | | | |
| 14 | <p>Пользуясь данными таблицы, рассчитайте обеспеченность России нефтью.</p> <p style="text-align: center;">Страны с крупнейшими запасами нефти</p> <table><tr><th>Страна</th><th>Запасы, млрд. т</th><th>Доля в мировых запасах, %</th><th>Добыча, млн. т</th></tr><tr><td>Венесуэла</td><td>48,0</td><td>17,5</td><td>27,4</td></tr><tr><td>Саудовская Аравия</td><td>40,9</td><td>17,2</td><td>519,6</td></tr><tr><td>Иран</td><td>21,4</td><td>9,0</td><td>142,7</td></tr><tr><td>Ирак</td><td>19,6</td><td>8,4</td><td>202,0</td></tr><tr><td>Россия</td><td>14,7</td><td>6,2</td><td>524,4</td></tr><tr><td>МИР</td><td>244,6</td><td>100</td><td>4165,1</td></tr></table> | Страна | Запасы, млрд. т | Доля в мировых запасах, % | Добыча, млн. т | Венесуэла | 48,0 | 17,5 | 27,4 | Саудовская Аравия | 40,9 | 17,2 | 519,6 | Иран | 21,4 | 9,0 | 142,7 | Ирак | 19,6 | 8,4 | 202,0 | Россия | 14,7 | 6,2 | 524,4 | МИР | 244,6 | 100 | 4165,1 | <p>28 лет (1 балл)</p> |
| Страна | Запасы, млрд. т | Доля в мировых запасах, % | Добыча, млн. т | | | | | | | | | | | | | | | | | | | | | | | | | | | |
| Венесуэла | 48,0 | 17,5 | 27,4 | | | | | | | | | | | | | | | | | | | | | | | | | | | |
| Саудовская Аравия | 40,9 | 17,2 | 519,6 | | | | | | | | | | | | | | | | | | | | | | | | | | | |
| Иран | 21,4 | 9,0 | 142,7 | | | | | | | | | | | | | | | | | | | | | | | | | | | |
| Ирак | 19,6 | 8,4 | 202,0 | | | | | | | | | | | | | | | | | | | | | | | | | | | |
| Россия | 14,7 | 6,2 | 524,4 | | | | | | | | | | | | | | | | | | | | | | | | | | | |
| МИР | 244,6 | 100 | 4165,1 | | | | | | | | | | | | | | | | | | | | | | | | | | | |
| 15 | <p>Используя свои знания об особенностях планировки городов в различных частях света, определите иллюстрацию, соответствующую Чикаго.</p> <div><div><div>А</div></div><div><div>Б</div></div><div><div>В</div></div></div> | <p>В (1 балл)</p> | | | | | | | | | | | | | | | | | | | | | | | | | | | | |
| 16 | <p>Каким странам, обозначенным на картосхеме цифрами, соответствуют таблицы А – Г?</p> | <p>1-А 2-Г</p> | | | | | | | | | | | | | | | | | | | | | | | | | | | | |

| | | | | |
|------------------|--------------|------|--------------|-----------------|
| Предмет | Класс | Дата | Время начала | Время окончания |
| ГЕОГРАФИЯ | 10-11 | | | |

| № n/n | Вопрос | Ответ | | | | | | | | | | | | | | | | | | | | | | | | | | | | | | | | | | | | | | | | |
|----------|--|----------------------------------|-----------|--------------|-----------|--------|-----------|---|--|-------|-----------|-------|-----------|-------|-----------|-------|-----------|---------|---------|--------|---------|--------------|---------|-------|-------|----------|---------|----------|---------|----------|---------|--------|-------|---------|---------|---------|---------|--------|---------|--------|-------|--|
| | <div></div> <div>Численность населения трёх крупнейших городов страны</div> <table><tr><th colspan="2">А</th><th colspan="2">Б</th><th colspan="2">В</th><th colspan="2">Г</th></tr><tr><th>Город</th><th>Тыс. чел.</th><th>Город</th><th>Тыс. чел.</th><th>Город</th><th>Тыс. чел.</th><th>Город</th><th>Тыс. чел.</th></tr><tr><td>Торонто</td><td>2 794,3</td><td>Сидней</td><td>5 005,3</td><td>Йоханнесбург</td><td>4 434,8</td><td>Цюрих</td><td>421,9</td></tr><tr><td>Монреаль</td><td>1 762,9</td><td>Мельбурн</td><td>4 641,6</td><td>Кейптаун</td><td>2 415,4</td><td>Женева</td><td>203,8</td></tr><tr><td>Калгари</td><td>1 306,8</td><td>Брисбен</td><td>2 349,7</td><td>Дурбан</td><td>2 117,7</td><td>Базель</td><td>173,9</td></tr></table> | А | | Б | | В | | Г | | Город | Тыс. чел. | Город | Тыс. чел. | Город | Тыс. чел. | Город | Тыс. чел. | Торонто | 2 794,3 | Сидней | 5 005,3 | Йоханнесбург | 4 434,8 | Цюрих | 421,9 | Монреаль | 1 762,9 | Мельбурн | 4 641,6 | Кейптаун | 2 415,4 | Женева | 203,8 | Калгари | 1 306,8 | Брисбен | 2 349,7 | Дурбан | 2 117,7 | Базель | 173,9 | <div>3-В</div> <div>4-Б</div> <div>(по 0,25 балла, всего 1 балл)</div> |
| А | | Б | | В | | Г | | | | | | | | | | | | | | | | | | | | | | | | | | | | | | | | | | | | |
| Город | Тыс. чел. | Город | Тыс. чел. | Город | Тыс. чел. | Город | Тыс. чел. | | | | | | | | | | | | | | | | | | | | | | | | | | | | | | | | | | | |
| Торонто | 2 794,3 | Сидней | 5 005,3 | Йоханнесбург | 4 434,8 | Цюрих | 421,9 | | | | | | | | | | | | | | | | | | | | | | | | | | | | | | | | | | | |
| Монреаль | 1 762,9 | Мельбурн | 4 641,6 | Кейптаун | 2 415,4 | Женева | 203,8 | | | | | | | | | | | | | | | | | | | | | | | | | | | | | | | | | | | |
| Калгари | 1 306,8 | Брисбен | 2 349,7 | Дурбан | 2 117,7 | Базель | 173,9 | | | | | | | | | | | | | | | | | | | | | | | | | | | | | | | | | | | |
| 17 | <div>Структура промышленности неоднократно менялась на протяжении её развития. Какая группа отраслей относится к старым отраслям?</div> <div>А. Каменноугольная, железорудная, текстильная.</div> <div>Б. Автомобилестроение, алюминиевая, тракторостроение.</div> <div>В. Авиационная, химия полимеров, нефтяная.</div> <div>Г. Роботостроение, ракетно-космическая, электронная.</div> | <div>А</div> <div>(1 балл)</div> | | | | | | | | | | | | | | | | | | | | | | | | | | | | | | | | | | | | | | | | |
| 18 | <div>Выберите название для картосхемы, соответствующее её географическому содержанию.</div> <div></div> | <div>Г</div> <div>(1 балл)</div> | | | | | | | | | | | | | | | | | | | | | | | | | | | | | | | | | | | | | | | | |

| Предмет | Класс | Дата | Время начала | Время окончания |
|------------------|--|------|--------------|---|
| ГЕОГРАФИЯ | 10-11 | | | |
| № n/n | Вопрос | | | Ответ |
| | <p>А. География мировой добычи угля. Б. География мировой добычи нефти. В. География мировой добычи железной руды. Г. География мировой добычи медной руды.</p> | | | |
| 19 | <p>Страна X граничит с несколькими соседними государствами, о которых известно следующее:</p> <p>О первом На территории страны расположено крупнейшее пресноводное озеро Европы.</p> <p>О втором В стране исповедуют несколько основных религий и философских систем, включая буддизм, даосизм и конфуцианство.</p> <p>О третьем В отношении страны часто употребляют поэтическое название «страна утренней свежести»; страна с высокоразвитой экономикой, славящаяся своими технологиями, продукцией электронного и транспортного машиностроения; одним из самых узнаваемых символов страны является традиционное блюдо из ферментированных овощей – кимчи.</p> <p>Определите страну X.</p> | | | <p>КНДР (1 балл)</p> |
| 20 | <p>Каким государствам, обозначенным на картосхеме цифрами, соответствуют таблицы А – Г?</p>  | | | <p>1-Б 2-Г 3-В 4-А (по 0,25 балла, всего 1 балл)</p> |

| | | | | |
|------------------|--------------|------|--------------|-----------------|
| Предмет | Класс | Дата | Время начала | Время окончания |
| ГЕОГРАФИЯ | 10-11 | | | |

| № n/n | Вопрос | | | | | | | | Ответ |
|-------|---|----|-------------------|----|----------------|----|-------------------|----|-------|
| | Первые пять товаров в структуре экспорта страны (% , 2023 г.) | | | | | | | | |
| | А | | Б | | В | | Г | | |
| | ТОВАР | % | ТОВАР | % | ТОВАР | % | ТОВАР | % | |
| | Нефть сырая | 29 | Медная руда | 25 | Чай | 18 | Соевые бобы | 16 | |
| | Нефтепродукты | 12 | Медь и её сплавы | 18 | Цветы | 9 | Нефть сырая | 12 | |
| | Природный газ | 9 | Рыбное филе | 4 | Нефтепродукты | 4 | Железная руда | 9 | |
| | Уголь | 8 | Персики и вишни | 3 | Кофе | 3 | Сахарный тростник | 5 | |
| | Золото | 3 | Молибденовая руда | 2 | Авокадо, манго | 2 | Кукуруза | 4 | |

Максимальное количество баллов – 20.