

Предмет	Класс	Дата	Время начала	Время окончания
ГЕОГРАФИЯ	9	19.11.2024		

Задания выполняют сразу после теоретического тура, продолжительность тура – 60 минут

ТЕСТОВЫЙ (ПРАКТИЧЕСКИЙ) ТУР

<i>№ n/n</i>	<i>Вопрос</i>	<i>Ответ</i>
1	<p>Найдите ошибку среди перечисленных объектов, понятий или явлений, непосредственно относящихся к самой многонациональной стране мира.</p> <p>Чай Черрапунджи Мумбаи Игуасу Гималаи Хинди Пряности Касты Брахмапутра</p>	Игуасу (1 балл)
2	<p>Страна X имеет сухопутную границу с двумя другими. Ниже приведены сведения о её сухопутных соседях. Определив этих соседей, вы сможете узнать страну, о которой идёт речь. Как называется страна X?</p> <p>1-й сосед Крупнейшее по площади государство на континенте и второе в мире. Почти половина территории расположена в климатических поясах с неблагоприятными условиями для жизни и деятельности. Плотность населения является одной из самых низких в мире. Наиболее плотно заселена южная часть страны. Двуязычная и многокультурная страна, где английский и французский языки признаны официальными на федеральном уровне.</p> <p>2-й сосед Страна имеет выход к двум океанам. Её территорию пересекает Северный тропик. Рельеф преимущественно гористый. В горах находится самый высокий действующий вулкан материка, на котором страна расположена. Крупнейшая в мире по населению испаноязычная страна.</p>	США (1 балл)
3	<p>Определите страну по описанию.</p> <p>Одна из красивейших африканских стран. Происхождение названия этой жаркой страны на экваторе связано с именем покрытой снегом вершины горы потухшего вулкана. Её название на языке местных жителей означает «белая гора». В стране находится несколько национальных парков, где охраняются слоны, жирафы, леопарды, львы, антилопы и другие животные. Население принадлежит более чем к 40 различным народам и племенам: банту, нилоты и кушиты,</p>	Кения (1 балл)

Предмет	Класс	Дата	Время начала	Время окончания
ГЕОГРАФИЯ	9	19.11.2024		

Задания выполняют сразу после теоретического тура, продолжительность тура – 60 минут

	европейцы и арабы.	
4	Какое название в Австралии имеет то, что в Северной Африке называется вади, а в Центральной Азии – узбой?	Крик (1 балл)
5	<p>Установите соответствие между фрагментами картосхем и иллюстрациями, чтобы образовались осмысленные пары.</p>  <p>①  ②  ③  ④ </p> <p>А  Б  В  Г </p>	<p>1-Г 2-В 3-Б 4-А (по 0,25 балла, всего 1 балл)</p>
6	<p>Укажите рисунок, на котором изображено традиционное жилище населения страны, описанной в следующем тексте.</p> <p>Страна расположена в центре Европы. Она граничит с девятью государствами, и природными границами её являются два отрезка береговой линии на севере, река Рейн на юго-западе и Баварские Альпы на юго-востоке. Она является одной из самых высокоразвитых промышленных стран в мире. Её народ оказал огромное влияние на культуру Западной Европы, особенно на музыку, литературу и архитектуру, а учёные сделали множество важных открытий в области химии, физики и медицины. Её инженеры создали первый велосипед, мотоцикл и автомобиль. Про народ этой страны иностранцы образно говорят так: «в раю они механики, а в аду – полицейские».</p>  <p>①  ②  ③  ④ </p>	3 (1 балл)
7	Установите соответствие между странами и их гастро-	1-В

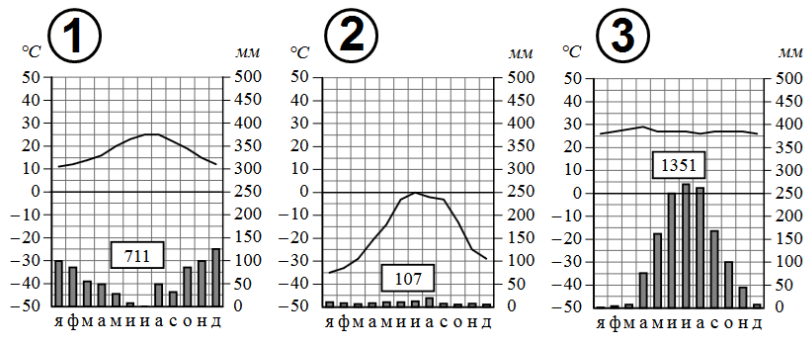
Предмет	Класс	Дата	Время начала	Время окончания
ГЕОГРАФИЯ	9	19.11.2024		

Задания выполняют сразу после теоретического тура, продолжительность тура – 60 минут

	<p>НОМИЧЕСКИМИ СИМВОЛАМИ.</p>  	<p>2-Б 3-А 4-Г <i>(по 0,25 балла, всего 1 балл)</i></p>
8	<p>Установите соответствие между описанием вклада землепроходца, мореплавателя, исследователя в историю географических открытий и его именем.</p> <p>1. В 1649 г. отряд этого землепроходца совершил поход из Якутска на реку Амур, что, по сути, означало присоединение Приамурья к России. В 1650 г. им были основаны первые русские укрепления по берегам Амура.</p> <p>2. Этот капитан, выходец из Дании, находящийся на русской службе, стоял во главе величайшего географического предприятия середины XVIII в. Возглавляемые им экспедиции охватили своими исследованиями северное побережье Евразии, всю Сибирь, Камчатку, моря и земли северной части Тихого океана.</p> <p>3. Этот русский землепроходец возглавил экспедицию из устья реки Колымы в восточном направлении вдоль северовосточного побережья Сибири, первым из европейцев пройдя проливом между Азией и Америкой.</p> <p>4. Российский полярный мореплаватель и офицер флота, участник Великой Северной экспедиции, исследовавший более 1,5 тыс. километров побережья Северного Ледовитого океана и открывший самую северную точку континентальной Евразии.</p> <p>А. С.И. Челюскин. В. В.И. Беринг. Б. Е.П. Хабаров. Г. С.И. Дежнёв.</p>	<p>1-Б 2-В 3-Г 4-А <i>(по 0,25 балла, всего 1 балл)</i></p>
9	<p>По приведённой ниже характеристике определите, какой природной зоне мира она соответствует. Укажите в ответе название этой природной зоны.</p>	<p>Жестко-лиственные леса</p>

Предмет	Класс	Дата	Время начала	Время окончания
ГЕОГРАФИЯ	9	19.11.2024		

Задания выполняют сразу после теоретического тура, продолжительность тура – 60 минут

	<p>Занимает территории вдоль морей и океанов, где осадков выпадает больше, чем внутри материков. В растительном покрове преобладают заросли кустарников и невысоких деревьев: лавра, земляничного дерева, мирта, маслины, туи, распространены также кипарис, пробковый и каменный дубы. На плодородных коричневых почвах выращивают оливы, citrusовые, виноград.</p> <p>Выберите климатограмму, соответствующую климатическим особенностям указанной вами природной зоны.</p>  <p>1 2 3</p>	<p>1 (по 0,5 балла, всего 1 балл)</p>																				
10	<p>В таблице приведены данные по ряду рек России. Установите соответствие между названиями рек и их характеристиками в таблице.</p> <table border="1"> <thead> <tr> <th>Река</th> <th>1</th> <th>2</th> <th>3</th> <th>4</th> </tr> </thead> <tbody> <tr> <td>Длина, км</td> <td>3 487</td> <td>3 650</td> <td>4 400</td> <td>1 870</td> </tr> <tr> <td>Площадь бассейна, кв км</td> <td>2 580 000</td> <td>2 990 000</td> <td>2 490 000</td> <td>422 000</td> </tr> <tr> <td>Расход воды, куб м/с</td> <td>19 800</td> <td>12 492</td> <td>16 800</td> <td>680</td> </tr> </tbody> </table> <p>А. Дон. В. Лена. Б. Енисей. Г. Обь.</p>	Река	1	2	3	4	Длина, км	3 487	3 650	4 400	1 870	Площадь бассейна, кв км	2 580 000	2 990 000	2 490 000	422 000	Расход воды, куб м/с	19 800	12 492	16 800	680	<p>1-Б 2-Г 3-В 4-А (по 0,25 балла, всего 1 балл)</p>
Река	1	2	3	4																		
Длина, км	3 487	3 650	4 400	1 870																		
Площадь бассейна, кв км	2 580 000	2 990 000	2 490 000	422 000																		
Расход воды, куб м/с	19 800	12 492	16 800	680																		
11	<p>На данной территории найдите лучшее место для размещения (обозначены на схеме буквами) алюминиевого завода.</p>	<p>Г (1 балл)</p>																				

Предмет	Класс	Дата	Время начала	Время окончания
ГЕОГРАФИЯ	9	19.11.2024		

Задания выполняют сразу после теоретического тура, продолжительность тура – 60 минут

<p>12</p>	<p>Определите, какими цифрами на картосхеме обозначены климатические уникалы России (установите соответствие, учитывая, что две цифры являются лишними).</p> <p>А. Полюс холода Северного полушария. Б. Абсолютный максимум температуры воздуха в России. В. Самое влажное место на территории России. Г. Максимальная годовая амплитуда температуры воздуха.</p>	<p><i>А-6 Б-3 В-2 Г-5 (по 0,25 балла, всего 1 балл)</i></p>
<p>13</p>	<p>Назовите административный центр единственного в своём роде субъекта Российской Федерации</p>	<p><i>Биробиджан (1 балл)</i></p>
<p>14</p>	<p>Какая из представленных на рисунке возрастно-половых пирамид населения характерна для Мурманской области?</p>	<p><i>3 (1 балл)</i></p>

Предмет	Класс	Дата	Время начала	Время окончания
ГЕОГРАФИЯ	9	19.11.2024		

Задания выполняют сразу после теоретического тура, продолжительность тура – 60 минут

15	<p>Фермер планирует выращивать сахарную свёклу. Он обратился в посредническую фирму, занимающуюся продажей земли, которая предложила ему участки в Воронежской, Нижегородской и Вологодской областях. Проанализируйте фрагмент почвенной карты России. В какой из областей фермеру следует приобретать землю под данную сельскохозяйственную культуру?</p>	<p>Воронежская обл. (1 балл)</p>
16	<p>Укажите название отрасли промышленности, важнейшие центры которой представлены на картосхеме.</p> <p>1. Чёрная металлургия. 2. Алюминиевая промышленность.</p>	<p>3 (1 балл)</p>




Предмет	Класс	Дата	Время начала	Время окончания
ГЕОГРАФИЯ	9	19.11.2024		

Задания выполняют сразу после теоретического тура, продолжительность тура – 60 минут

	<p>3. Медная промышленность.</p> <p>4. Промышленность минеральных удобрений.</p>	
17	<p>Установите соответствие между отраслью животноводства и группой регионов России, в которых данная отрасль является отраслью животноводческой специализации.</p> <p><i>Отрасли животноводства</i></p> <p>1. Молочное скотоводство. 3. Свиноводство. 2. Мясное скотоводство. 4. Овцеводство.</p> <p><i>Регионы России</i></p> <p>А. Республика Дагестан, Республика Калмыкия, Ставропольский край. Б. Белгородская область, Краснодарский край, Алтайский край. В. Вологодская область, Тверская область, Ленинградская область. Г. Челябинская область, Волгоградская область, Оренбургская область.</p>	<p>1-В 2-Г 3-Б 4-А <i>(по 0,25 балла, всего 1 балл)</i></p>
18	<p>Каким регионам (субъектам РФ), обозначенным на картосхеме цифрами, соответствуют таблицы А – Г?</p> 	<p>1-А 2-Г 3-В 4-Б <i>(по 0,25 балла, всего 1 балл)</i></p>

Предмет	Класс	Дата	Время начала	Время окончания
ГЕОГРАФИЯ	9	19.11.2024		

Задания выполняют сразу после теоретического тура, продолжительность тура – 60 минут

	<p align="center">Национальная структура населения по переписи 2021 г. (процентов к населению, указавшему национальную принадлежность)</p> <table border="1"> <thead> <tr> <th colspan="2">А</th> <th colspan="2">Б</th> <th colspan="2">В</th> <th colspan="2">Г</th> </tr> <tr> <th>Этнос</th> <th>%</th> <th>Этнос</th> <th>%</th> <th>Этнос</th> <th>%</th> <th>Этнос</th> <th>%</th> </tr> </thead> <tbody> <tr> <td>Русские</td> <td>82,9</td> <td>Русские</td> <td>88,3</td> <td>Русские</td> <td>91,2</td> <td>Аварцы</td> <td>30,5</td> </tr> <tr> <td>Армяне</td> <td>4,9</td> <td>Коряки</td> <td>2,4</td> <td>Корейцы</td> <td>3,7</td> <td>Даргинцы</td> <td>16,6</td> </tr> <tr> <td>Даргинцы</td> <td>2,1</td> <td>Украинцы</td> <td>1,5</td> <td>Украинцы</td> <td>0,9</td> <td>Кумыки</td> <td>15,9</td> </tr> <tr> <td>Цыгане</td> <td>1,4</td> <td>Ительмены</td> <td>0,7</td> <td>Татары</td> <td>0,5</td> <td>Лезгины</td> <td>13,3</td> </tr> <tr> <td>Греки</td> <td>0,9</td> <td>Эвены</td> <td>0,7</td> <td>Киргизы</td> <td>0,5</td> <td>Лакцы</td> <td>5,2</td> </tr> </tbody> </table>	А		Б		В		Г		Этнос	%	Этнос	%	Этнос	%	Этнос	%	Русские	82,9	Русские	88,3	Русские	91,2	Аварцы	30,5	Армяне	4,9	Коряки	2,4	Корейцы	3,7	Даргинцы	16,6	Даргинцы	2,1	Украинцы	1,5	Украинцы	0,9	Кумыки	15,9	Цыгане	1,4	Ительмены	0,7	Татары	0,5	Лезгины	13,3	Греки	0,9	Эвены	0,7	Киргизы	0,5	Лакцы	5,2	
А		Б		В		Г																																																				
Этнос	%	Этнос	%	Этнос	%	Этнос	%																																																			
Русские	82,9	Русские	88,3	Русские	91,2	Аварцы	30,5																																																			
Армяне	4,9	Коряки	2,4	Корейцы	3,7	Даргинцы	16,6																																																			
Даргинцы	2,1	Украинцы	1,5	Украинцы	0,9	Кумыки	15,9																																																			
Цыгане	1,4	Ительмены	0,7	Татары	0,5	Лезгины	13,3																																																			
Греки	0,9	Эвены	0,7	Киргизы	0,5	Лакцы	5,2																																																			
19	<p>Для иллюстрированного словаря географических терминов необходимо подобрать иллюстрацию к статье «Технические культуры». Рисунок под каким номером вы бы предложили для этого использовать?</p> <table border="1"> <tr> <td></td> <td></td> <td></td> <td></td> </tr> </table>					1 (1 балл)																																																				
																																																										
20	<p>Одна из республик Российской Федерации, народ которой исповедует буддизм и относится к алтайской языковой семье, непосредственно граничит с государством, население которого имеет то же вероисповедание и ту же языковую принадлежность. Кто из народов европейской части России является представителем той же веры, языковой семьи и группы, что и первые два?</p> <table border="0"> <tr> <td>1. Башкиры.</td> <td>4. Балкарцы.</td> </tr> <tr> <td>2. Адыгейцы.</td> <td>5. Калмыки.</td> </tr> <tr> <td>3. Коми</td> <td></td> </tr> </table>	1. Башкиры.	4. Балкарцы.	2. Адыгейцы.	5. Калмыки.	3. Коми		5 (1 балл)																																																		
1. Башкиры.	4. Балкарцы.																																																									
2. Адыгейцы.	5. Калмыки.																																																									
3. Коми																																																										

Максимальное количество баллов – 20.